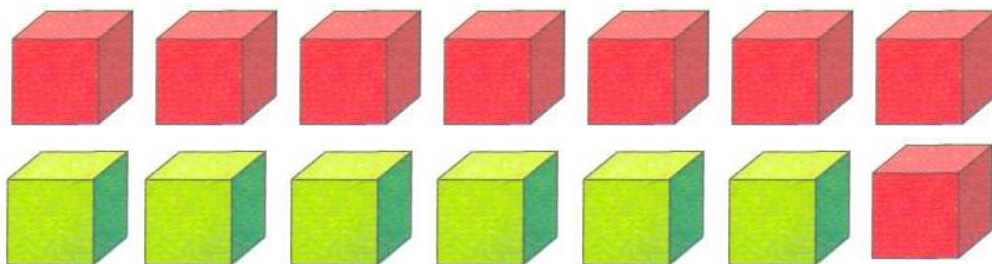


Задания Математика, 1 класс


***Внимание! Во всех вопросах только один правильный ответ.**

1. Фигуры разбиты на две группы по:



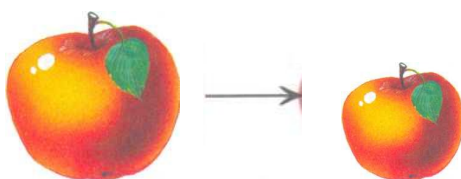
- A) форме
- B) размеру
- C) количеству
- D) цвету

2. Что изменилось?




- A) форма
- B) цвет
- C) изменились форма и цвет
- D) ничего не изменилось

3. Что изменилось?




- A) форма
- B) цвет
- C) размер
- D) ничего не изменилось

4. Какой знак нужно поставить?



A)	B)	C)	D)
<	>	=	
меньше	больше	равно	никакой

5. Рассмотрите рисунок, определите закономерность. Сколько вишенок надо положить на вторую полку (вместо знака вопроса)?



A)	B)	C)	D)

6. В каком порядке расставлены бабочки?



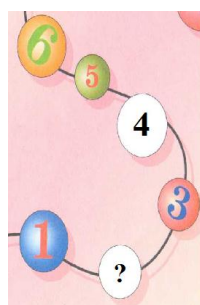
- A) в порядке уменьшения размера
- B) в порядке увеличения размера
- C) в произвольном порядке
- D) все ответы верны

7. Каким по порядку (слева направо) стоит жираф?



- A) первым
- B) третьим
- C) вторым
- D) четвёртым

8. Какое число пропущено в «математических» бусах?



A)	B)	C)	D)
1	7	2	5

9. Выберите вариант ответа, в котором такое количество палочек, сколько ёлок на поляне.



A)	B)	C)	D)

10. Сосчитайте количество предметов.



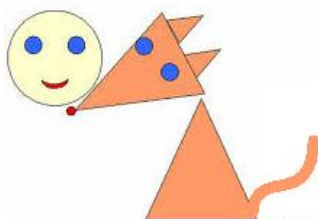
- A) 3
- B) 6
- C) 9
- D) 11

11. Отметьте, какому примеру соответствует рисунок.



- A) 2+2
- B) 3+3
- C) 6-2
- D) 4-3

12. Какой фигуры нет на рисунке?



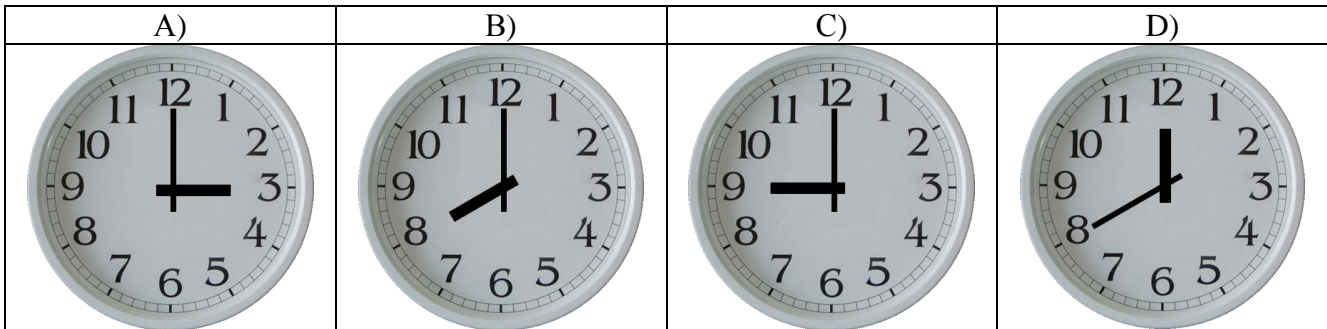
A)	B)	C)	D)
			все фигуры есть

13. Решите задачу.


Маша съела 4 конфеты, а Вова 2 конфеты. Сколько всего конфет съели дети?

- A) 6
- B) 2
- C) 3
- D) 4

14. Оля уходит в школу ровно в восемь часов. Отметьте часы, которые показывают это время.



15. Сосчитайте, сколько яблок висит на дереве.



- A) 5
- B) 10
- C) 13
- D) 7