

Задания Математика, 2 класс

***Внимание! Во всех вопросах только один правильный ответ.**

1. Какое число пропущено в числовом ряду 1, 2, 3, 4, 5, __, 7?

- A) 7
- B) 5
- C) 6
- D) 9

2. Какое число следует при счёте за числом 8?

- A) 6
- B) 4
- C) 9
- D) 10

3. Отметьте наименьшее число в числовом ряду 5, 4, 2, 8?


- A) 1
- B) 5
- C) 2
- D) 8

4. Отметьте наибольшее число в числовом ряду 6, 1, 3, 9?



- A) 1
- B) 3
- C) 9
- D) 6

5. Отметьте неравенство, в котором нужно поставить знак « > ».

- A) $4 > 5$
- B) $3 > 7$
- C) $5 > 3$
- D) $2 > 2$

6. Маша собрала грибы:  . Сколько нужно ещё собрать грибов, чтобы их стало 5?

- A) 4
- B) 2
- C) 5
- D) 1

7. У Маши было  . Принесли ещё  . Сколько шариков стало у Маши?

- A) 9
- B) 6
- C) 8
- D) 3

8. Отметьте правильное решение задачи:

*Четыре мышки-хохотушки,
Очень дружные подружки,
Вышли в поле погулять,
Прибежали ещё пять.
Очень дружно они пели,
Всех их было ровно...*

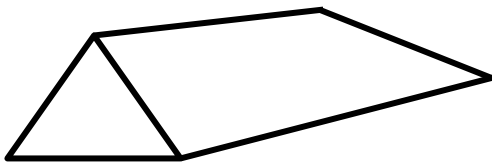
- A) $7+2=9$
- B) $5-4=1$
- C) $3+5=8$
- D) $4+5=9$

9. Решите задачу:

*Есть у нашего Андрейки
Три монеты по две копейки.
На покупку сладкой плюшки
Сколько денег у Андрюшки?*





- A) 8 коп.
- B) 2 коп.
- C) 3 коп.
- D) 6 коп.

10. Отметьте, сколько многоугольников на рисунке.



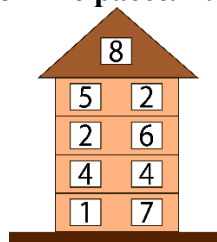
- A) 1
- B) 2
- C) 3
- D) 4

11. Маша уходит в школу ровно в восемь часов. Отметь часы, которые показывают это время.

A)	B)	C)	D)
			

12. Определите, на каком этаже числа в домике расселились неправильно.

- А) на 1 этаже
- В) на 2 этаже
- С) на 3 этаже
- Д) на 4 этаже



13. Решите числовые выражения, с помощью таблицы расшифруйте слово.

Отметьте, какое слово получилось.

$5+2=$

$3+2=$

$10-4=$

$9-5=$

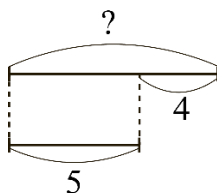
3	4	5	6	7	8
а	о	е	т	л	с

- А) лето
- В) лото
- С) село
- Д) соты

14. С помощью линейки измерьте отрезки. Отметьте отрезок, который имеет наибольшую длину.

А)	В)	С)	Д)

15. Какой из задач соответствует данный чертеж?



- А) Дети собирали грибы. Митя нашел 5 подберезовиков и 4 подосиновика. Сколько грибов нашел Митя?
- В) Дети собирали грибы. Митя нашел 5 подберезовиков, а подосиновиков на 4 больше. Сколько подосиновиков нашел Митя?
- С) Митя нашел 14 грибов. Подосиновиков он нашел 5 штук. Сколько Митя нашел подберезовиков?
- Д) Митя нашел 10 грибов. 5 грибов он отдал Лиде. Сколько грибов осталось у Мити?